

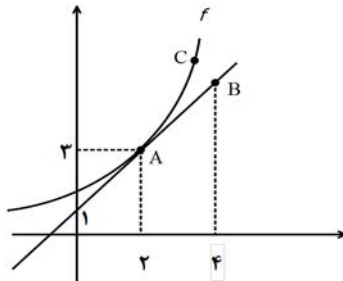
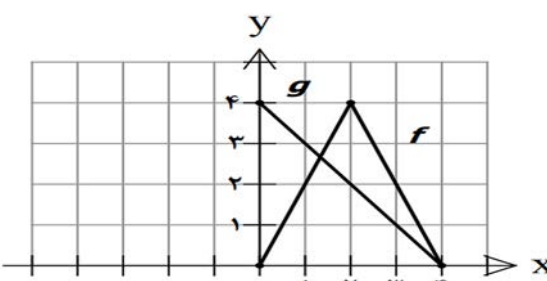
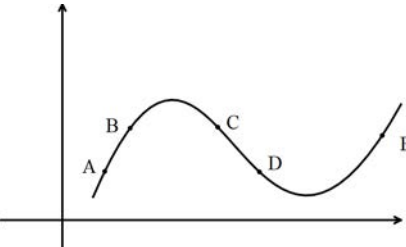
باسمه تعالی

نام و نام خانوادگی :	تاریخ امتحان: ۱۳۹۸/۱۰/۱۴	ساعت شروع: ۱۰ صبح	سؤالات امتحان نهایی درس : حسابان ۲
مدت امتحان: ۱۲۰ دقیقه	تعداد صفحه: ۲	رشته : ریاضی و فیزیک	پایه دوازدهم دوره دوم متوسطه
مرکز سنجش و پایش کیفیت آموزشی http://aee.medu.ir	دانش آموزان روزانه، بزرگسال و داوطلبان آزاد سراسر کشور در نوبت دی ماه سال ۱۳۹۸		

ردیف	استفاده از ماشین حساب ساده دارای چهار عمل اصلی مجاز می باشد سؤالات (پاسخ نامه دارد)	نمره
------	-------------------------------------------------------------------------------------	------

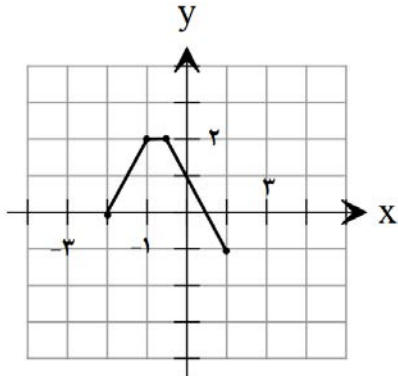
۱	درستی یا نادرستی عبارات زیر را مشخص کنید. الف) اگر تابع f در یک بازه نزولی باشد، آنگاه در این بازه اکیدا نزولی نیز می باشد. ب) سرعت لحظه ای در $t = ۲$ برای متحرکی با معادله حرکت $f(t) = t^2 + 3t$ برابر ۷ است.	۱
۲	در جاهای خالی کلمه یا عبارت مناسب را بنویسید. الف) اگر $\left(\frac{1}{2}\right)^{3x-2} \leq \frac{1}{64}$ باشد، حدود x برابر است. ب) حاصل $\lim_{x \rightarrow +\infty} (3 - 2x - 5x^4)$ برابر با است. پ) اگر $f'(2) = -1$ و $g'(2) = 3$ ، در این صورت $(2f + 3g)'(2)$ برابر با است. ت) طول نقطه عطف تابع $f(x) = x^3 - 6x^2$ برابر است.	۲
۱/۲۵	نمودار تابع $f(x)$ در شکل زیر رسم شده است. نمودار تابع $g(x) = f(2x + 1)$ را رسم کرده و دامنه و برد آن را تعیین کنید.	۳
۱/۲۵	در چند جمله ای $p(x) = x^3 + ax^2 + b$ مقادیر a, b را چنان بیابید که باقی مانده تقسیم آن بر $x - 1$ برابر با ۴ باشد و بر $x + 2$ بخش پذیر باشد.	۴
۱/۵	ضابطه تابعی به صورت $y = a \sin bx + c$ را بنویسید که دوره تناوب آن π ، مقدار ماکزیمم آن ۶ و مقدار مینیمم آن -2 باشد.	۵
۱/۵	معادله $2 \cos 3x - \sqrt{3} = 0$ را حل کنید.	۶
۱	مجانبات های قائم و افقی تابع $f(x) = \frac{x^2 + x}{x^2 - x}$ را بیابید.	۷
«ادامه سؤالات در صفحه دوم»		

باسمه تعالی

نام و نام خانوادگی :		تاریخ امتحان: ۱۳۹۸/۱۰/۱۴		ساعت شروع: ۱۰ صبح		سوالات امتحان نهایی درس : حسابان ۲	
مدت امتحان: ۱۲۰ دقیقه		تعداد صفحه: ۲		رشته : ریاضی و فیزیک		پایه دوازدهم دوره دوم متوسطه	
مرکز سنجش و پایش کیفیت آموزشی http://aee.medu.ir		دانش آموزان روزانه، بزرگسال و داوطلبان آزاد سراسر کشور در نوبت دی ماه سال ۱۳۹۸					
نمره		استفاده از ماشین حساب ساده دارای چهار عمل اصلی مجاز می باشد سوالات (پاسخ نامه دارد)					
ردیف							
۱/۵		۸ حاصل حدهای زیر را به دست آورید. الف) $\lim_{x \rightarrow 3^+} \frac{[x] - 2}{3 - x}$ ب) $\lim_{x \rightarrow +\infty} \left(\frac{3x+1}{x-5} - \frac{2}{x} \right)$					
۱		۹ در شکل روبرو نمودار تابع $f(x)$ و خط مماس بر منحنی آن در نقطه ی $x = 2$ داده شده است: الف) مشتق تابع $f(x)$ را در نقطه ی $x = 2$ را بیابید. ب) معادله خط مماس بر نمودار تابع در نقطه A را بنویسید 					
۱/۲۵		۱۰ مشتق پذیری تابع مقابل را در نقطه $x = 1$ بررسی کنید. $f(x) = \begin{cases} x^2 + 3 & x \geq 1 \\ 3x + 1 & x < 1 \end{cases}$					
۱/۷۵		۱۱ مشتق توابع زیر را به دست آورید. (ساده کردن مشتق الزامی نیست.) الف) $f(x) = \frac{2x+3}{x^3 - 2x^2}$ ب) $g(x) = \sin^2(2x+1)$					
۱		۱۲ نمودار تابع f, g را در شکل مقابل در نظر بگیرید. اگر $h(x) = \frac{f(x)}{g(x)}$ باشد، $h'(1)$ را بیابید. 					
۱		۱۳ شکل زیر را در نظر بگیرید . در کدام یک از پنج نقطه مشخص شده در نمودار : الف) $f'(x)$ و $f''(x)$ هر دو منفی اند. ب) $f'(x)$ منفی و $f''(x)$ مثبت است. 					
۱/۲۵		۱۴ اکستریم های مطلق تابع $f(x) = 2x^3 + 3x^2 - 12x$ را در بازه ی $[-1, 2]$ مشخص کنید.					
۱/۷۵		۱۵ جدول تغییرات و نمودار تابع $f(x) = \frac{2x}{x-1}$ را رسم کنید.					
۲۰		موفق و سربلند باشید. جمع نمره					

مدت امتحان: ۱۲۰ دقیقه	تعداد صفحه: ۲	رشته: ریاضی فیزیک	راهنمای تصحیح درس: حسابان ۲
تاریخ امتحان: ۱۳۹۸ / ۱۰ / ۱۴	پایه دوازدهم دوره دوم متوسطه		
مرکز سنجش و پایش کیفیت آموزشی http://aee.medu.ir	دانش آموزان روزانه، بزرگسال و داوطلبان آزاد سراسر کشور در دی ماه سال ۱۳۹۸		

ردیف	راهنمای تصحیح	نمره
------	---------------	------

۱	الف) نادرست (ب) درست هر مورد (۰/۵) نمره	۱
۲	الف) $(-\infty, +\infty)$ (ب) $-\infty$ (پ) ۷ (ت) ۲ هر مورد (۰/۵) نمره	۲
۱/۲۵	$D = [-2, 1]$ و $R = [-1, 2]$ (۰/۲۵)  رسم درست تابع (۰/۷۵)	۳
۱/۲۵	$x - 1 = 0 \rightarrow x = 1 \rightarrow p(1) = 4 \rightarrow a + b = 3$ (۰/۲۵) $x + 2 = 0 \rightarrow x = -2 \rightarrow p(-2) = 0 \rightarrow 4a + b = 8 \Rightarrow$ (۰/۵) $a = \frac{5}{3}$ (۰/۲۵), $b = \frac{4}{3}$ (۰/۲۵)	۴
۱/۵	$\frac{2\pi}{ b } = \pi \Rightarrow b = 2$ (۰/۵) $\begin{cases} a + c = 6 \\ - a + c = -2 \end{cases} \Rightarrow \begin{cases} a = 4 \\ c = 2 \end{cases}$ (۰/۲۵) هر یک از توابع $y = 4 \sin(2x) + 2$ یا $y = -4 \sin(2x) + 2$ یا $y = 4 \sin(-2x) + 2$ صحیح است هر مورد نوشته شود مورد قبول است. (۰/۵)	۵
۱/۵	$\cos 3x = \frac{\sqrt{3}}{2} = \cos \frac{\pi}{6}$ (۰/۵) $\Rightarrow 3x = 2k\pi \pm \frac{\pi}{6}$ (۰/۵) $\Rightarrow x = \frac{2k\pi}{3} \pm \frac{\pi}{12}$ (۰/۵)	۶
۱	مجانب قائم $x^2 - x = 0 \rightarrow \begin{cases} x = 1 \\ x = 0 \end{cases}$ (۰/۲۵) قابل قبول نیست (۰/۲۵) $\lim_{x \rightarrow \pm\infty} \frac{x^2 + x}{x^2 - x} = \lim_{x \rightarrow \pm\infty} \frac{x^2}{x^2} = 1$ (۰/۲۵) $\Rightarrow y = 1$ (۰/۲۵)	۷
۱/۵	الف) $\frac{[3^+] - 2}{3 - 3^+} = \frac{3 - 2}{0^-} = \frac{1}{0^-} = -\infty$ (۰/۵) ب) $\lim_{x \rightarrow -\infty} \left(\frac{3^x}{x} - 0 \right) = 3 - 0 = 3$ (۰/۲۵)	۸
۱	الف) $f'(2) = \frac{3-1}{2-0} = 1$ (۰/۵) ب) $y - 3 = 1(x - 2) \Rightarrow y = x + 1$ (۰/۵)	۹

راهنمای تصحیح درس : حسابان ۲	رشته : ریاضی فیزیک	تعداد صفحه : ۲	مدت امتحان : ۱۲۰ دقیقه
پایه دوازدهم دوره دوم متوسطه		تاریخ امتحان : ۱۴ / ۱۰ / ۱۳۹۸	
دانش آموزان روزانه، بزرگسال و داوطلبان آزاد سراسر کشور در دی ماه سال ۱۳۹۸		مرکز سنجش و پایش کیفیت آموزشی http://aee.medu.ir	

ردیف	راهنمای تصحیح	نمره
------	---------------	------

۱/۲۵	$f'_+(1) = \lim_{x \rightarrow 1^+} \frac{f(x) - f(1)}{x - 1} = \lim_{x \rightarrow 1^+} \frac{x^2 + 3 - 4}{x - 1} = 2 \quad (۰/۵)$ $f'_-(1) = \lim_{x \rightarrow 1^-} \frac{3x + 1 - 4}{x - 1} = \lim_{x \rightarrow 1^-} \frac{3x - 3}{x - 1} = 3 \quad (۰/۵) \rightarrow f'_-(1) \neq f'_+(1)$ <p>بنابراین تابع f را در $x = 1$ مشتق پذیر نیست. (۰/۲۵)</p>	۱۰												
۱/۷۵	$الف) y' = \frac{\overbrace{2(x^2 - 2x^2)}^{(۰/۵)} - (\overbrace{3x^2 - 4x}^{(۰/۵)})(\overbrace{2x + 3}^{(۰/۵)})}{\underbrace{(x^2 - 2x^2)^2}_{(۰/۵)}}$ $ب) y' = \underbrace{3 \times 2}_{(۰/۲۵)} \underbrace{\sin^2(2x + 1)}_{(۰/۲۵)} \underbrace{\cos(2x + 1)}_{(۰/۲۵)}$	۱۱												
۱	$h'(1) = \frac{\overbrace{f'(1)g(1) - f(1)g'(1)}^{(۰/۵)}}{\overbrace{g'(1)}^{(۰/۲۵)}} = \frac{\overbrace{2 \times 3 - (2)(-1)}^{(۰/۲۵)}}{9} = \frac{8}{9} \quad (۰/۲۵)$	۱۲												
۱	الف) نقطه C (۰/۵) ب) نقطه D (۰/۵)	۱۳												
۱/۲۵	$f'(x) = 6x^2 + 6x - 12 = 0 \quad (۰/۲۵) \Rightarrow \begin{cases} x = 1 \\ x = -2 \end{cases} \quad (۰/۵) \quad \text{قابل قبول نیست}$ $f(-1) = 13, f(2) = 4, f(1) = -7 \Rightarrow \min : (1, -7) \quad (۰/۲۵), \max : (-1, 13) \quad (۰/۲۵)$	۱۴												
۱/۷۵	$f'(x) = \frac{-2}{(x-1)^2} < 0 \quad (۰/۲۵)$ <p>جدول (۰/۵)</p> <table><tr><td>x</td><td>$-\infty$</td><td>1</td><td>$+\infty$</td></tr><tr><td>f'</td><td>$-$</td><td>$+$</td><td>$-$</td></tr><tr><td>f</td><td>2</td><td>$+\infty$</td><td>2</td></tr></table> <p>شکل (۰/۵) نمره</p>	x	$-\infty$	1	$+\infty$	f'	$-$	$+$	$-$	f	2	$+\infty$	2	۱۵
x	$-\infty$	1	$+\infty$											
f'	$-$	$+$	$-$											
f	2	$+\infty$	2											
۲۰	جمع نمره	« همکاران گرامی لطفاً به راه حل های صحیح دیگر به تناسب نمره دهید . »												

« همکاران گرامی لطفاً به راه حل های صحیح دیگر به تناسب نمره دهید . »